

Всего: " 318 "

Российская Федерация
Белгородская область
Управление образования администрации
Яковлевского городского округа
Муниципальное бюджетное
общеобразовательное учреждение
"Завидовская основная общеобразовательная
школа Яковлевского городского округа"
309075, РФ, Белгородская область, Яковлевский район,
село Завидовка, улица Школьная, 1
тел/факс: 8 (47244) 6-87-10 e-mail: mbouzavid@mail.ru

ШИФР Ш 75-08

« 23 » 09 20 21 г
№ _____

Олимпиадная работа
школьного этапа всероссийской олимпиаде по физической культуре
учащего(ей)ся 5 класса
муниципального бюджетного общеобразовательного учреждения
« Завидовская основная общеобразовательная школа Яковлевского городского округа »
Дерезинова Илья Сергеевича
(ФИО полностью)

Педагог - наставник
Учитель Петухова Т. В.

**Школьный этап Всероссийской олимпиады школьников
2021-2022 учебного года по основам безопасности жизнедеятельности**

5–6 классы
ТЕОРЕТИЧЕСКИЙ ТУР
Продолжительность 90 минут





Задание 1. «Правила дорожного движения»


Максимальная оценка за правильно выполненное задание – 6 баллов

Соотнесите названия знаков с их изображением, записав в пустые поля правильный ответ.

Варианты:

Автомобильная магистраль, Место стоянки, Пешеходный переход, Падение камней, Конец жилой зоны, Место остановки трамвая

	<i>Пешеходный переход</i>	<i>1б</i>
	<i>Падение камней</i>	<i>1б</i>
	<i>Место остановки трамвая</i>	<i>1б</i>
	<i>Автомобильная магистраль</i>	<i>1б</i>

	<p>Место жилой зоны об</p>
	<p>конец жилой зоны об</p>

Задание 2. «Безопасность в природной среде»

Максимальная оценка за правильно выполненное задание – 10 баллов

Определите название гриба, исходя из его описания.

- а) Шляпки этих грибов по цвету похожи на опавшие листья дерева, под которым они чаще всего встречаются - дождевик об
- б) Живут эти грибы на деревьях или на пнях. Живут большими компаниями. Иногда с одного дерева или пня можно собрать целое лукошко – _____ об
- в) Мякоть этого гриба никогда не темнеет, за что он получил своё название. Это царь грибов - _____
- г) Этот гриб является лекарством для лосей. Он ядовитый, но очень красивый – _____
- д) Растёт в хвойных и лиственных лесах группами. Название свое получил за характерную ярко-рыжую окраску, единственный гриб, который не мнётся и не крошится – _____

Задание 3. «Правила дорожного движения».

Установите соответствие между сигналами регулировщика и их значением для пешехода.

Максимальная оценка за правильно выполненное задание – 8 баллов

Сигналы регулировщика	Значение для пешехода
1. Правая рука вытянута вперед	А Со стороны груди и спины движение всех транспортных средств и пешеходов запрещено.
2. Руки вытянуты в стороны или опущены	Б. Пешеходам разрешено переходить проезжую часть за спиной регулировщика
	В. Движение всех транспортных средств и пешеходов запрещено во всех направлениях

3. Рука поднята вверх	Г. Со стороны левого и правого бока пешеходам разрешено переходить проезжую часть
-----------------------	---

1	2	3
2	б	А

Задание 4. «Международная кодовая таблица сигналов бедствия «земля-воздух».

Укажите соответствие изображения знаков Международной кодовой таблицы сигналов бедствия «земля-воздух» с его описанием. Ответ запишите в таблицу.

X	Все в порядке
L	Нужны оружие и припасы
V	укажите направление следования
N	нет
Y	да
LL	Нужны продовольствие и ...
K	Самолет сильно поврежден
F	следовать дальше не в.

Варианты:

Все в порядке

Следовать дальше не в состоянии

Нужны оружие и боеприпасы

Самолет сильно поврежден

Укажите направление следования

Нет

Да

Нужны продовольствие и вода

Задание 5. «Безопасность человека»

Максимальная оценка за правильно выполненное задание – 4 балла

Из предложенных вариантов выберите и вставьте пропущенные слова, подходящие по смыслу.

Среда обитания — среда жизни и производственной деятельности человека, окружающий мир природный и созданный им материальный человек.

Варианты: деятельности, мир, жизни, человека.

Задание 6. «ЗОЖ»

Соотнесите какие из предложенных фраз относятся к ссоре, а какие к избеганию конфликта. Ответ запишите.

Максимальная оценка за правильно выполненное задание – 6 баллов

Вот глупый...	ссора	10.
Сегодня ты...	ссора	.
Давай попробуем вместе...	избегание	.
Сколько можно жрать...	ссоре	.
Мне кажется...	избегание	10
Ты лгун и врунишка....	ссоре	10

Задание 7. «Основы первой помощи»

Определите для чего применяется каждое из указанных средств из аптечки.

Максимальная оценка за правильно выполненное задание – 10 баллов

Средства из аптечки	Для чего может пригодиться
Резиновые перчатки	2. чтобы защитить руки для того чтобы обеззаразить руки
Лейкопластырь бактерицидный	1. для закрытия ран
Стерильные марлевые салфетки (или бинты)	2. для перевязки и промывания.
Ножницы	2. чтобы разрезать ткань

Варианты:

1. Заклейка царапин, порезов, ссадин,
2. Защита от загрязнения, Отрезание бинта или лейкопластыря, Наложение повязки, Защита от заражения

Задание 8. «Туризм и выживание в природной среде»

Укажите соответствие снаряжения туриста по его описанию.

Максимальная оценка за правильно выполненное задание – 8 баллов

Компас, карта	4	.
Спички, нож, пила, посуда	1	20
Рюкзак	3	20
Средство от насекомых, аптечка	2	20.

Варианты:

1. Для разведения костра и приготовления пищи
2. Для защиты от насекомых, на случай получения травм
3. Для переноски вещей
4. Для ориентирования на местности

ТЕСТОВЫЕ ЗАДАНИЯ

Определите один правильный ответ

За каждый правильный ответ начисляется по 1 баллу

1. От какого места начинается дорожное движение для школьника?

- об -
- а) от подъезда дома;
 - б) от выхода на тротуар;
 - в) от пешеходного перехода;
 - г) от выхода со двора.

2. Можно ли впускать в квартиру посторонних, если они представляются сотрудниками ремонтной службы, а вы один (одна) дома?

- об +
- а) можно;
 - б) нельзя;
 - в) можно, если они предупредили по телефону;
 - г) можно, если они показали удостоверение.

3. Безопасно ли тушить электрические приборы, находящиеся под напряжением?

- об +
- а) да, всегда;
 - б) да, если напряжение ниже 220 V;
 - в) нет;
 - г) да, если напряжение ниже 230 V.

4. С какой стороны безопасно обходить трамвай, стоящий на остановке?

- об -
- а) спереди;
 - б) сзади;
 - в) всё равно;
 - г) обход запрещён.

5. Где запрещается движение велосипедистам младше 14 лет?

- об
- а) по пешеходным зонам;
 - б) по тротуарам;
 - в) по полосе для велосипедистов;
 - г) по велодорожкам.

об

6. В какую сторону следует идти, если в метро началась суматоха или вы заметили активное передвижение сотрудников спецслужб в определённом направлении?

- а) идти в противоположную сторону от сотрудников спецслужб;
- б) идти вместе с сотрудниками спецслужб;
- в) идти в центр зала;
- г) идти к выходу.

7. Какое расстояние от глаз человека до книги является оптимальным с гигиенической точки зрения?

- а) 10–20 см;
б) 20–25 см;
в) 30–35 см;
г) 45–50 см.

8. Каким номером можно воспользоваться для вызова скорой медицинской помощи?

- а) 013;
б) 933;
в) 104;
г) 112.

9. Как называется угол между направлением на север и направлением на любой предмет?

- а) биссектриса;
б) обратный азимут;
в) азимут.

10. Если вы стоите лицом к Полярной звезде, где будет находиться север, юг, запад, восток?

- а) север – впереди, юг – за спиной, запад – слева, восток – справа;
б) север – за спиной, юг – впереди, запад – слева, восток – справа;
в) север – впереди, юг – за спиной, запад – справа, восток – слева.

11. Что значит автономное существование?

- а) когда человек «один на один» с природой;
б) отдых на городском пляже в большой компании;
в) выезд за границу с друзьями;
г) путешествие с семьёй на корабле;
д) поход в ближайший магазин.

12. Стороны света можно определить по:

- а) манометру;
б) компасу;
в) термометру.

13. Признаки отравления бытовым газом?

- а) ощущение сонливости, тошнота, рвота, ощущения удушья;
б) температура, рвота, боли в животе, тошнота;
в) температура, ощущения удушья, боли в животе, тошнота.

14. В каком году впервые были приняты правила дорожного движения?

- а) 1925;
б) 1930;
в) 1920.

15. Как называются пересечение и соединение дорог?

- а) перекрестки;
б) переходы;
в) развилки.

16. Ночью определить стороны света можно по Полярной звезде. Перпендикуляр проведённый к земле от Полярной звезды, покажет Вам направление на:

- а) север;
- б) юг;
- в) запад;
- г) восток.

17. День солидарности в борьбе с терроризмом отмечается:

- а) 3 сентября
- б) 2 сентября
- в) 8 сентября
- г) 1 сентября

18. В какой период дня клещи наиболее активны?

- а) утром и вечером;
- б) ночью и днем;
- в) всегда.

19. Что из перечисленного нельзя прикладывать к месту ожога?

- а) детский крем;
- б) подсолнечное масло;
- в) сливочное масло;
- г) все перечисленное.

20. Назовите международный сигнал бедствия:

- а) SOS;
- б) DOS;
- в) KOS;
- г) SOC;
- д) KOS.

Определите несколько правильных ответов

21. Какие значения имеет зелёный мигающий сигнал светофора для пешехода?

- а) разрешает движение;
- б) информирует, что время разрешения движения истекает;
- в) информирует, что время запрещения движения истекает;
- г) информирует о наличии нерегулируемого перекрестка;
- д) запрещает движение.

22. Укажите направления, угол между которыми является азимутом:

- а) на юг;
- б) на ориентир;
- в) на север;
- г) на запад;
- д) на световой ориентир.

10
23. Что из указанного относится к признакам сохранения плохой погоды?

- а) ласточки летают высоко над землёй;
- б) сплошная облачность;
- в) ночью тихо и прохладно;
- г) низкое атмосферное давление.

24. Какие предметы увеличивают плавучесть человека?

- 10
- а) спасательный круг;
 - б) лодка;
 - в) спасательный жилет;
 - г) плот.

об
25. Назовите, какие из указанных ниже костров относятся к жаровым:

- а) шалаш;
- б) звездный;
- в) таежный;
- г) решетка.

26. Где безопаснее находиться во время землетрясения?

- а) возле оконного проёма;
- б) в широком коридоре;
- в) в узком коридоре;
- г) в центре комнаты;
- д) в дверном проёме.

27. Что может являться источником ЧС техногенного характера?

- а) аварии;
- б) эпизоотии;
- в) эпидемии;
- г) магнитные бури;
- д) катастрофы.

28. Какие из видов закаливания являются местными?

- а) обливание тела;
- б) обливание стоп;
- в) купание;
- г) обливание кистей;
- д) солнечные ванны.

10
29. Какие действия необходимо выполнить для оказания первой помощи при носовом кровотечении?

- а) наклонить голову вперёд;
- б) запрокинуть голову назад;
- в) повернуть голову набок;
- г) приложить холод к переносице;
- д) приложить тепло к переносице.

30. Какими средствами можно воспользоваться в качестве подручных для временной остановки артериального кровотечения?

од.

- а) электрическим проводом;
- б) брючным ремнём;
- в) верёвкой;
- г) проволокой;
- д) широким куском плотной ткани.